

KOMABAキッズ 年中クラス

オンライン授業の実施について

保護者の皆様

いつもお世話になっております。さて、オンライン授業が続いておりますがご家庭の皆様にご協力いただいているおかげで、普段教室ではできないような取り組みも可能になっています。そしてお子様方自身が一生懸命がんばってくれていることが、何より私たちの励みになっています。どうぞ引き続き、オンライン授業にてよろしく願いいたします。

なお、オンラインでの授業実施にあたり、できるだけ具体物の使用を少なくするために、カリキュラムの順番を変更しております。何卒ご了承ください。ご不明な点がございましたら、メール (komaba@cradle.asia) にてお気軽にお問い合わせくださいませ。どうぞよろしくお願いいたします。

担当 石川、川口

【オンライン授業第4回】

《ご準備頂くもの》

- お子さまがお気に入りの絵本を一冊、ご準備ください。授業の導入で紹介をしていただきます！
- 未測定の学習をします。以下のご準備をお願いします。
 - ・お米 だいたい3合ぐらい
 - ・計量カップ(180ml)
 - ・お米がこぼれても問題ないような器 (大きめのボールなど)
 - ・違う形の透明なグラスを3つ
- いつも使用している筆記用具をご用意ください。赤・青・緑・黄色のクーピーをそれぞれ使用します。
- 絵を描けるような裏紙を5枚程度、ご準備ください。

第7回 年中クラス

「多さくらべ」



多さくらべ


A · B · C

・次の絵を見て、先生と一緒に続けて言ってみましょう。





太郎くんのジュースは _____ けれど、

花子さんのジュースは _____。



行きのにもつは _____ けれど、

帰りのにもつは _____。



プールの水は _____ けれど、

お風呂の水は _____。

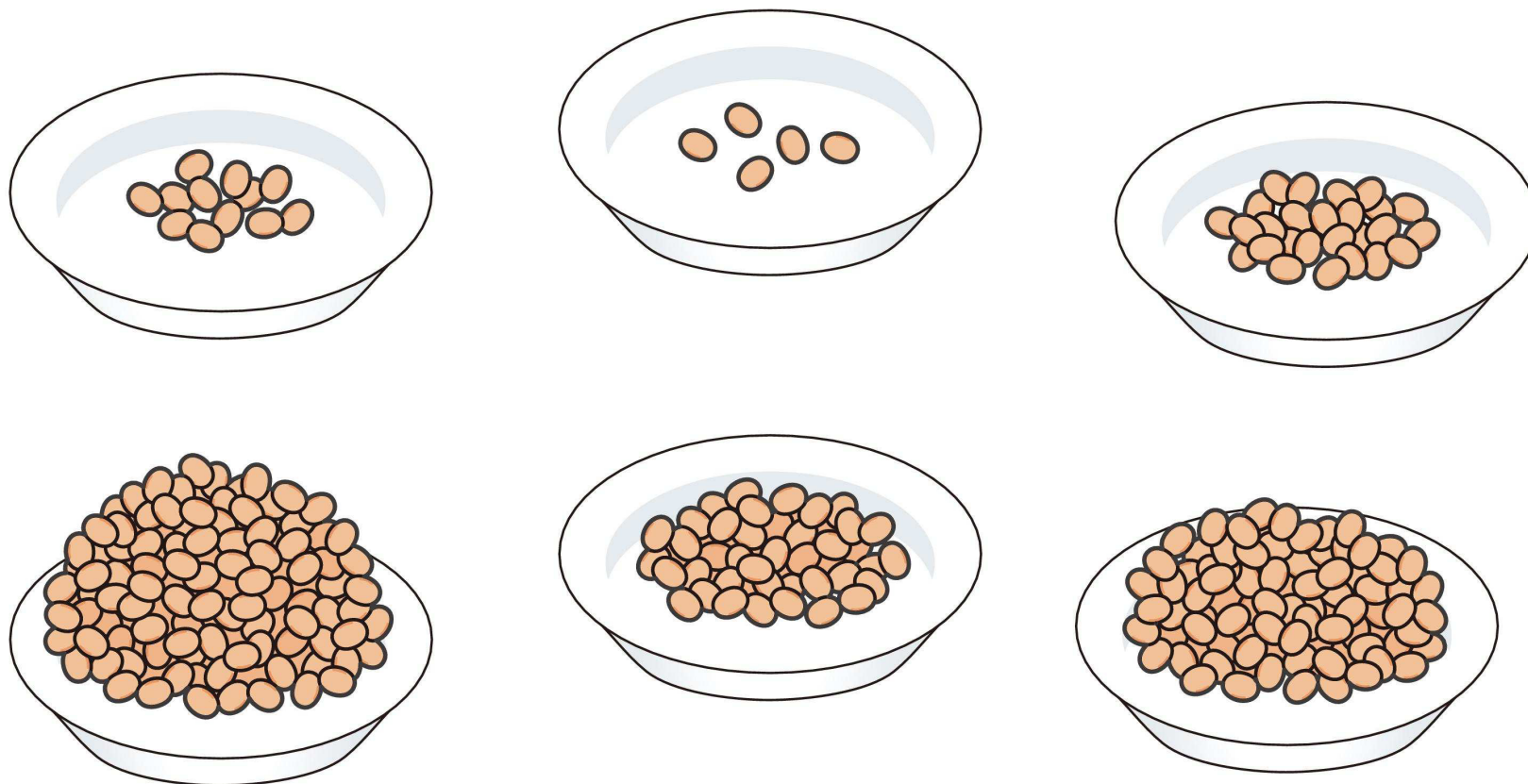


多さくらべ

A · B · C

・いろいろな量の豆が、お皿に入っています。

- ① 1番多いお皿はどれですか。赤い○をつけてください。
- ② 1番少ないお皿はどれですか。青い○をつけてください。




多さくらべ

A · B · C

・家族みんなでジュースを飲んでいます。

- ① お父さんのジュースより、多いジュースはどれですか。青い○をつけてください。
- ② お母さんのジュースより、少ないジュースはどれですか。赤い○をつけてください。
- ③ 女の子のジュースより多くて、お父さんのジュースより少ないジュースはどれですか。緑の○をつけてください。




くらべる言葉（量の相対化）

A · B · C

・動物たちがジュースを飲みます。今、ゾウさんのコップにジュースが入っていますね。

- ① キリンさんはゾウさんよりも、多くジュースを飲みます。そうなるようにコップに赤い線を引いて中を塗ってください。
- ② トラさんはゾウさんよりも、少なくジュースを飲みます。そうなるようにコップに緑の線を引いて中を塗ってください。
- ③ ライオンさんはゾウさんより多いけれど、キリンさんよりも少なくなるようにジュースをつぎました。
そのようになるように、紫色で線を引いて中を塗ってください。



量の聞き取り

A · B · C

・次のお話を聞いて後の問題に教えてください。

イヌ君、ネコさん、ウサギさんが、お菓子屋さんにアメを買いにきました。

お菓子屋さんのアメのピンは、たくさん入っているものや、少ししか入っていないものなど、いろいろあります。

イヌ君は「僕は弟たちと食べるから、アメが1番たくさん入っているピンを買おうよ」と言いました。

ネコさんは「私は虫歯が痛いから、1番少ないピンを買おう」と言いました。

ウサギさんは「私はお母さんと食べるから、3番目にたくさん入っているピンを買おう」と言いました。

問. 動物たちは、それぞれどのアメのピンを買って帰ったでしょうか。青い線で線結びしてください。

