

小学4年生  
算数基礎

6月2日

授業前の準備

- ① えんぴつ
- ② プリント(ノートにかいてもOK)
- ③ テキスト(ピラミッド)




印刷のことを考慮し、課題の内容を  
変更しておりますので裏面をご確認ください。

名前





# おさらい



1. 310005400200について、この数字を漢字で書きなさい。

2. 30000について次の問いに答えなさい。

(2) 10倍した数は？

(3) 100で割った数は？

(2)

(3)

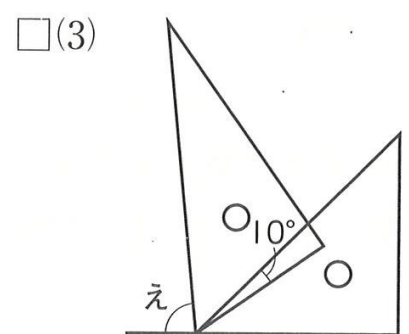
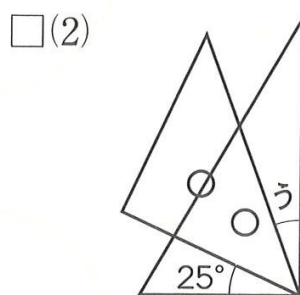
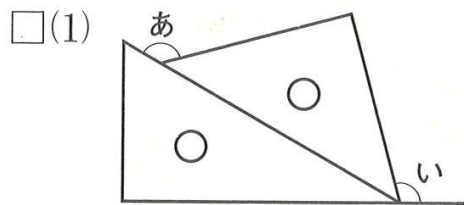
3. 次の計算をしなさい。

(1) 67億 + 17億 =

(2) 1兆 - 4000億 =



4. 次の三角じょうぎの図で、あ～えの角度を、計算でもとめなさい。



(1)

(2)

(3)

5. 次のわりざんをしましょう。

$$\textcircled{1} \quad 4 \overline{)2788}$$

$$\textcircled{2} \quad 9 \overline{)8721}$$

$$\textcircled{3} \quad 7 \overline{)4319}$$

$$\textcircled{4} \quad 8 \overline{)5488}$$

$$\textcircled{5} \quad 5 \overline{)1915}$$

$$\textcircled{6} \quad 6 \overline{)3330}$$

## ◆◆◆学習内容◆◆◆

6月2日(火)		小4算数基礎
学習内容	◆文章題をとこう!	
宿題	◆ピラミッド(52-55ページの残り) ◆計算ドリル 11. 計算のきまり(1)	

### ご家庭への通信欄

皆様大変お世話になっております。我々もこのような事態は当然初めてのケースであり、試行錯誤しながら皆様にこれまでと同様な教育を提供していくよう努めております。また課題に関してですが、ご家庭の環境により印刷が困難であることが予想されます。そこで、プリントでの配布を極力減らし、テキストを用いて6月も引き続き課題の指示をさせていただきたいと思っております。

ご家庭でのより一層のお子様のサポートをどうぞよろしくお願いいたします。 四本